

Time: 40 Minutes

Paper Math 2

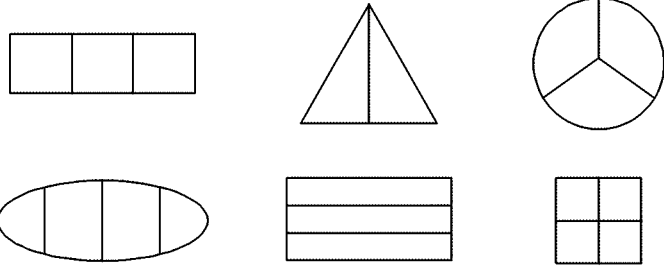
Total Marks: 25

3rd Month, 2nd Week, 6th Day

Syllabus: Revision Test

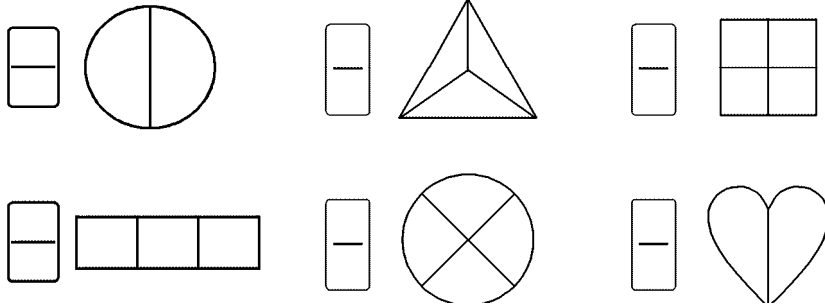
Q.1. Colour one third of the shape that are divided into three equal parts. (5)

درج ذیل اشکال میں جو تین حصوں میں تقسیم ہیں ان کے ایک حصے میں رنگ کریں۔



Q.2. Colour one part of each shape and write fraction for the colour part. (18)

درج ذیل اشکال کے ایک حصے میں رنگ کریں اور رنگ والے حصے سے فرکشن لکھیں۔



Q.3. How many thirds make one whole? (2)

کتنے تہرڈل کر "1" بناتے ہیں؟

---



---



---



---



---

Time: 40 Minutes

Paper Math 2

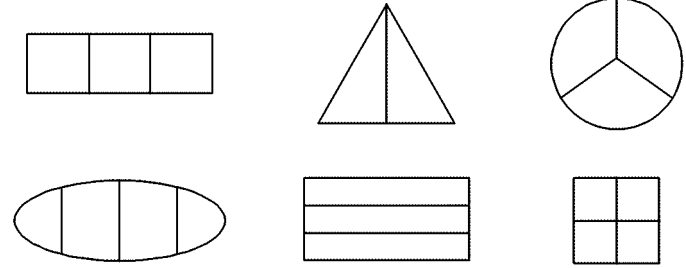
Total Marks: 25

3rd Month, 2nd Week, 6th Day

Syllabus: Revision Test

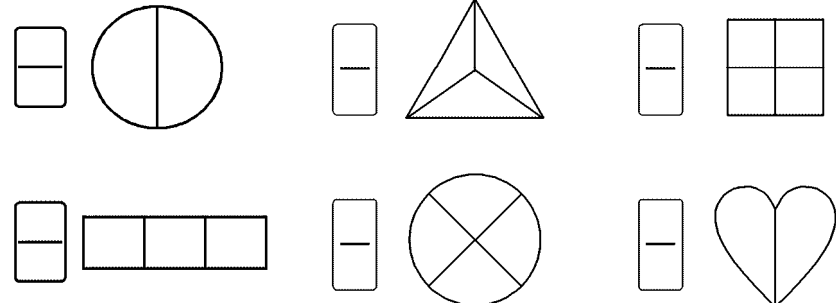
Q.1. Colour one third of the shape that are divided into three equal parts. (5)

درج ذیل اشکال میں جو تین حصوں میں تقسیم ہیں ان کے ایک حصے میں رنگ کریں۔



Q.2. Colour one part of each shape and write fraction for the colour part. (18)

درج ذیل اشکال کے ایک حصے میں رنگ کریں اور رنگ والے حصے سے فرکشن لکھیں۔



Q.3. How many thirds make one whole? (2)

کتنے تہرڈل کر "1" بناتے ہیں؟

---



---



---



---



---